



<b>Autor:</b> Mgr. Jaroslava Lošáková		<b>Škola:</b> ZŠ, Ulica Eliáša Lániho, Bytča
<b>Predmet:</b> Matematika	<b>Ročník:</b> 7.	<b>Téma:</b> Stredová súmernosť

### Pracovný list č. 29

1. Zostroj obraz úsečky podľa bodu S, ktorý a) leží na úsečke



b) neleží na úsečke




c) leží v strede úsečky




2. Nájdi obraz obdĺžnika podľa bodu S, ktorý leží a) mimo

b) vo vnútri c) vo vrchole d) v strede obdĺžnika



+<sub>S</sub>



S



+<sub>S</sub>

3. Ktoré tlačené písmená abecedy sú stredovo súmerné?