

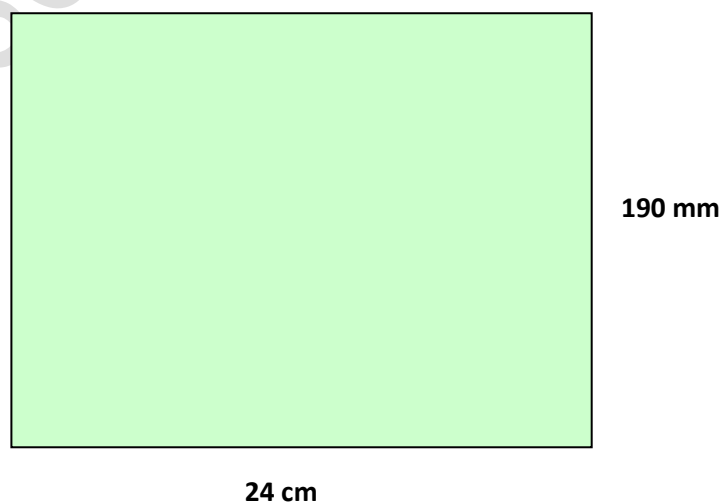
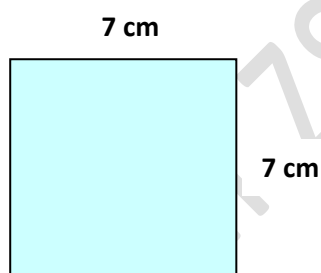
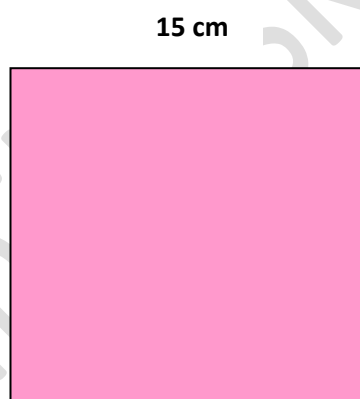
Autor: Mgr. Jozef Uriček		Škola: ZŠ, Ulica Eliáša Lániho, Bytča
Predmet: Matematika	Ročník: piaty	Téma: Obsahy rovinných útvarov

## Pracovní list

Vypočítajte obsahy jednotlivých rovinných geometrických

útvarov :

29 cm



Výsledky:

